



















Schneide nur an den gestrichelten Linien aus! 

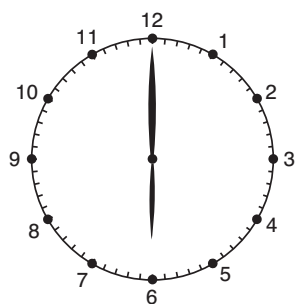
Legt nun eine Reihe. Legt dazu immer ein Bild an einen passenden Geldwert.

	900,20 €		6 € 12 ct
	2 € 71 ct		2,56 €
	27,25 €		8,30 €
	713 ct		5,13 €
	37 € 22 ct		19 ct
	7 € 15 ct		19 € 55 ct
	227 ct		501,10 €
	64,00 €		9500 ct



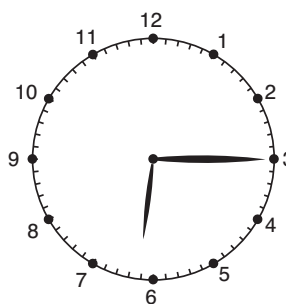
Einführung in das Thema Zeit 1

Lies die Uhrzeiten ab. Notiere sie neben der Uhr.
Immer zwei Zeiten sind möglich.



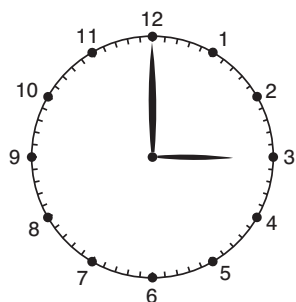
6:00 Uhr

18:00 Uhr



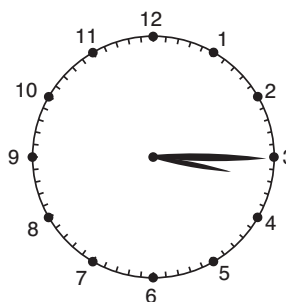
_____ Uhr

_____ Uhr



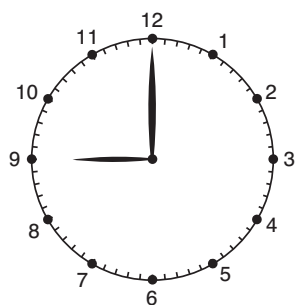
_____ Uhr

_____ Uhr



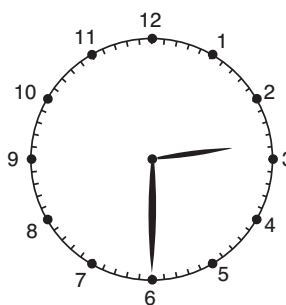
_____ Uhr

_____ Uhr



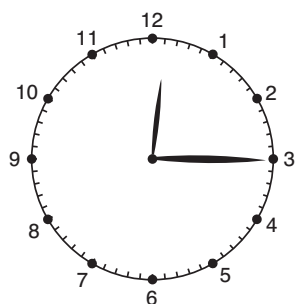
_____ Uhr

_____ Uhr



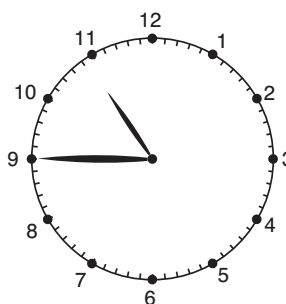
_____ Uhr

_____ Uhr



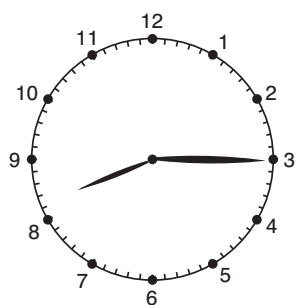
_____ Uhr

_____ Uhr



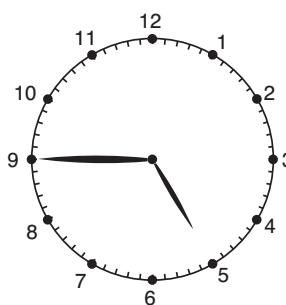
_____ Uhr

_____ Uhr



_____ Uhr

_____ Uhr



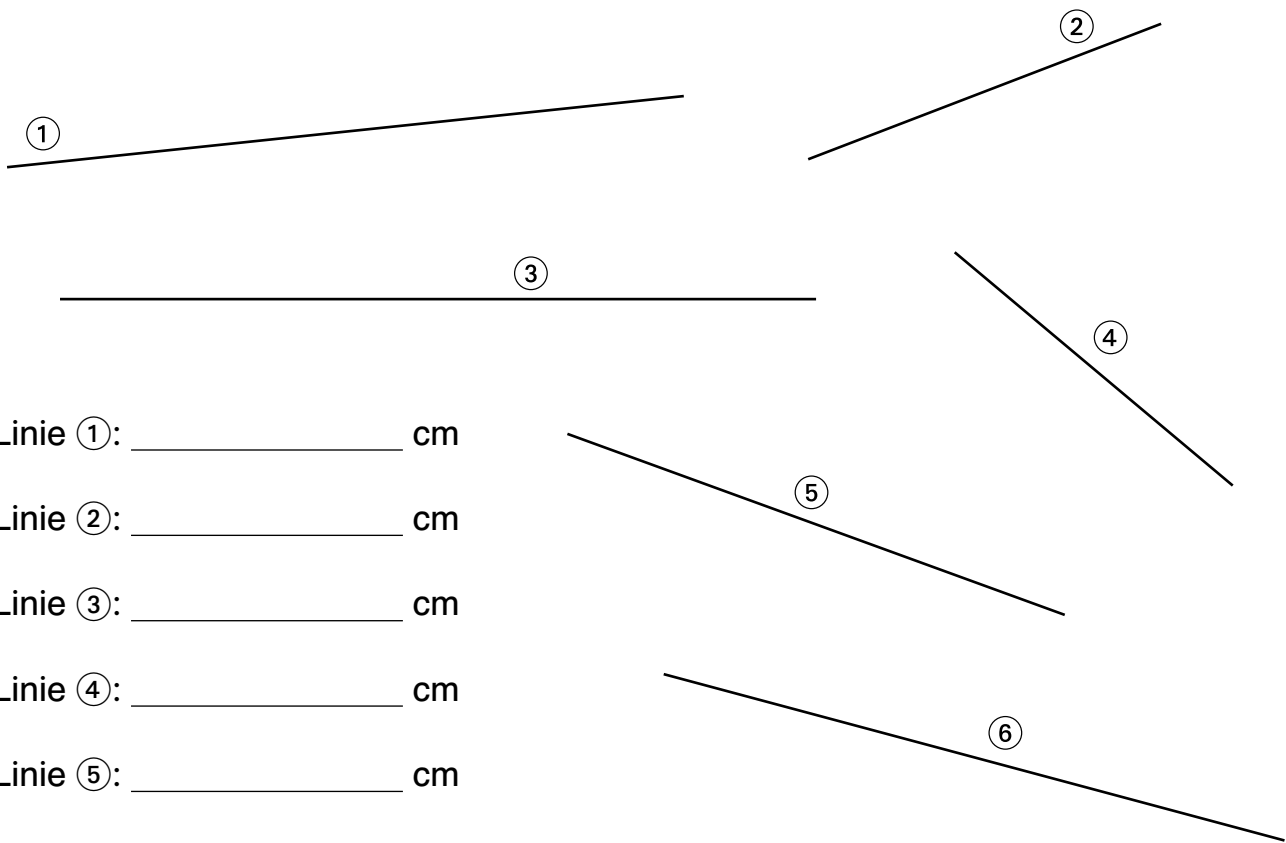
_____ Uhr

_____ Uhr



Einführung in das Thema Längen 1

1 Ordne die Linien der Länge nach. Miss mit einem Lineal.



Linie ①: _____ cm

Linie ②: _____ cm


Linie ③: _____ cm

Linie ④: _____ cm

Linie ⑤: _____ cm

Linie ⑥: _____ cm

2 Miss an deinem Körper.



deine Körperlänge: _____ m _____ cm

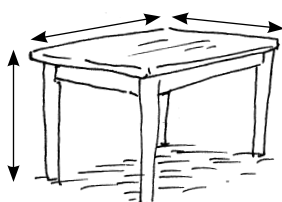
Länge deines Oberkörpers: _____ m _____ cm

Länge deiner Beine: _____ m _____ cm

Länge deiner Füße: _____ m _____ cm

dein Bauchumfang: _____ m _____ cm

3 Miss deinen Tisch.



Höhe des Tisches: _____ m _____ cm

Länge des Tisches: _____ m _____ cm

Breite des Tisches: _____ m _____ cm