

Hilfskarten



Spalte

Zeile

Diagonale

waagerecht

senkrecht

Summe $1 + 2 = 3$

Gerade

Spalte

Zeile

Diagonale

waagerecht

senkrecht

Summe $1 + 2 = 3$

Gerade

Dreieck

Quadrat

Rechteck

Trapez

Viereck

Fünfeck

Dreieck

Quadrat

Rechteck

Trapez

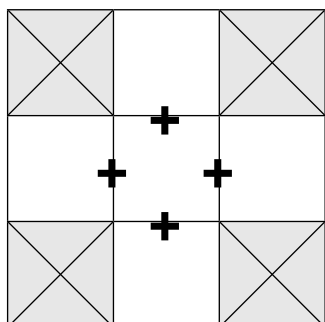
Viereck

Fünfeck

Zahlenspiel mit Quadraten



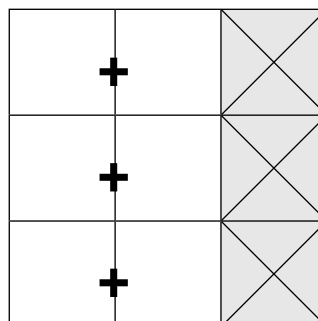
1



Schreibe die Zahlen 1, 2, 3, 4, 5.
Die Summe der Zahlen
soll waagrecht und senkrecht gleich sein.



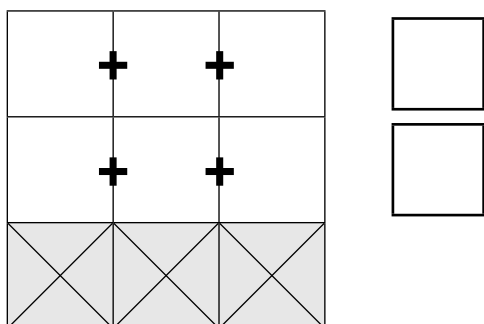
2



Schreibe die Zahlen 1, 2, 3, 4, 5, 6.
Die Summe der Zahlen
soll in der ersten, zweiten und dritten Zeile
gleich sein.



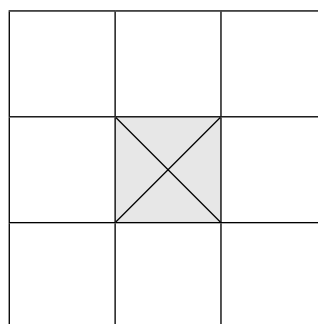
3



Schreibe die Zahlen 1, 2, 3, 4, 5, 6.
Die Summe der Zahlen
in der zweiten Zeile soll zweimal größer
als in der ersten Zeile sein.

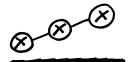


4

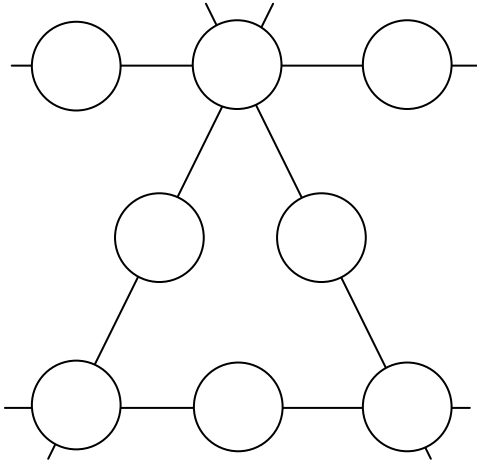


Schreibe die Zahlen 1, 2, 3, 4,
 5, 6, 7, 8.
Die Summe der gegenüberliegenden Zahlen
soll gleich sein.

Zahlenspiel mit Geraden

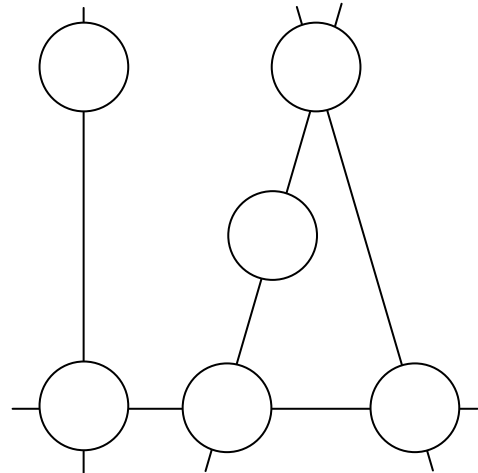


Schreibe die Zahlen 1 bis 8.
Auf allen Geraden soll die Summe
der Zahlen gleich sein.



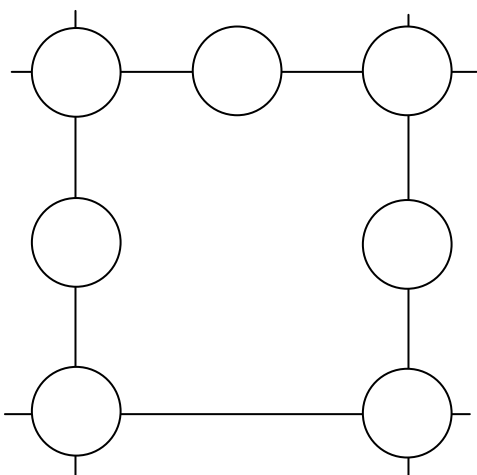
69

Schreibe die Zahlen 1 bis 6.
Auf allen Geraden soll die Summe
der Zahlen gleich sein.



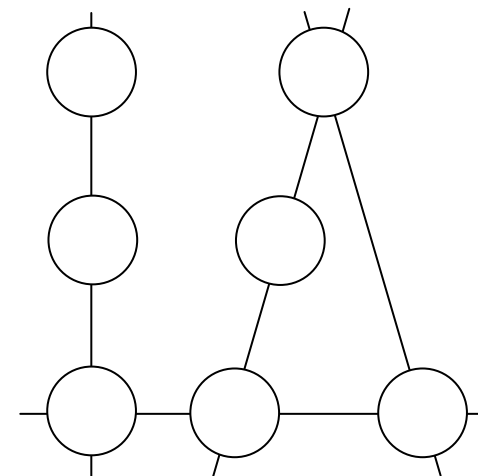
70

Schreibe die Zahlen 1 bis 7.
Auf allen Geraden soll die Summe
der Zahlen gleich sein.



71

Schreibe die Zahlen 1 bis 7.
Auf allen Geraden soll die Summe
der Zahlen gleich sein.



72